

2021
4 月上載

<https://www.mceducation.com.hk/mcgs/>



網上試題庫 (2020/21 下學期新增題目) 新創常識 > 網上試題庫

網上試題庫 Online Question Bank
Welcome mc_gs_et1 | 已製作試卷 | 中/E | 登出

建立試卷

圖片庫 搜尋題目 題目內容或試題編號 確定

中文 ENG 年級 請選擇 單元 請選擇 題目類型 請選擇

試卷設定 搜尋結果: 11874題 頁數: 1/1188 首頁 < > 尾頁 跳至 頁 全選本頁題目

選擇試題

檢視已選試題

匯出試卷

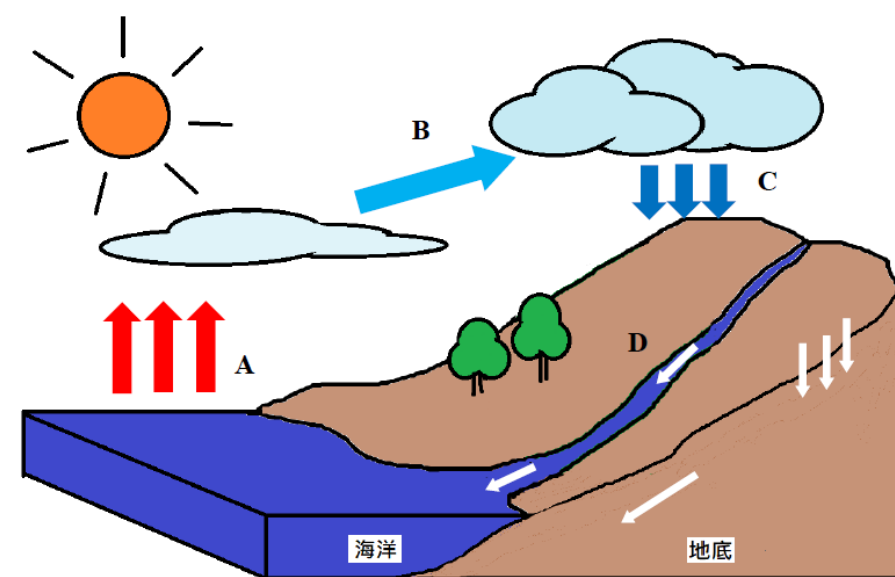
已選題數: 0 題
試卷總分: 0 分
試卷摘要

分辨以下報道內容是「事實」還是「意見」，在適當的空格內加✓。 <8 分>

	事實	意見
(a) 港隊在今屆亞運會中奪得輝煌成績，令人鼓舞，青年人應視他們為學習榜樣。		✓
(b) 由旅發局主辦的第二屆「香港電競音樂節」吸引了七百多萬人次於網上觀看賽事直播。	✓	
(c) 電車公司計劃在車上安裝限速提示系統，並確保系統適用於		

請根據以下示意圖，解釋「水的循環」。 <8 分>

流入 凝結 蒸發 降下 滲透



- A 地球表面的水受太陽照射後，會 (1) _____ 成水蒸氣。
- B 水蒸氣在高空遇冷，(2) _____ 為小水點，積聚成雲。
- C 雲中的水點聚集到一定重量後，便會形成雨 (3) _____ 。
- D 雨水回到地面，(4) _____ 海洋。

每年上、下學期都會
新增數百條新試題！



網上試題庫
Online Question Bank
Welcome mc_gs_et1 | List of created exam papers | [Home](#) | [中/E](#) | [Logout](#)

Create exam paper

Picture Bank

CHI ENG

Setting

Select question

View selected questions

Export exam paper

Search

Year Unit Question type

Search result: 153question(s) Page: 1/16 Jump to page

Select all questions on this page

Question ID EGS0109_18_001


1 What are the meanings of these festive items? (6 marks)

A Rice cake	●	●
B Rice dumplings	●	●
C Mandarin	●	●
		●
		●

Score 6
 Select

Selected questions: 0 question(s)
Total Score: 0 marks
[Summary of Test Paper](#)

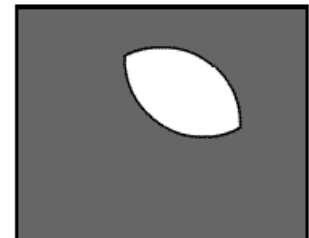
By observing the Moon from the Earth, in what pattern does the shape of the Moon change? (6 marks)



A

B

C



D

E

F

The pattern in which the shape of the Moon changes:

